

ВСЕРОССИЙСКАЯ ОЛИМПИАДА ШКОЛЬНИКОВ
ПО ОБЖ 2021–2022 уч. г. ШКОЛЬНЫЙ ЭТАП
10–11 классы

Тестовые задания

Определите один правильный ответ.

За правильный ответ начисляется 2 балла. 0 баллов выставляется за неправильный ответ, а также если участником отмечено более одного ответа (в том числе правильный).


1. Водитель –

- ☒ а) лицо, управляющее каким-либо транспортным средством
б) лицо, управляющее только автомобилем
в) лицо, управляющее только автомобилем и автобусом
г) лицо, управляющее только мотоциклом, автомобилем и автобусом

2. В каком направлении нумеруются квартальные столбы, установленные на пересечении лесных просек для указания номеров стандартных лесных кварталов?

- а) с востока на юг
б) с юга на запад
в) с юга на север
☒ г) с запада на восток

3. Определите знамя, которое является государственной реликвией России.



4. Какое минимальное расстояние друг от друга необходимо соблюдать при переходе водоёма по льду группой?

- ☒ а) 5–6 м
б) 7–8 м
в) 3–4 м
г) 1–2 м

5. Обнаружена закладка из двух гранат. Установите минимальный радиус зоны эвакуации.

- а) 250 м
- б) 50 м
- в) 230 м
- ☒ г) 200 м



6. На изображении представлен

- ☒ а) Су-57
- б) Су-33
- в) Су-27 СК
- г) Су-35



7. К боевым ирритантам относят

- ☒ а) хлорпикрин
- б) дифосген
- в) хлорциан
- г) фосген

8. Какое воинское звание было у Ю.А. Гагарина во время первого в мире полёта в космос?

- ☒ а) старший лейтенант
- б) лейтенант
- в) майор
- г) капитан

9. Какое соотношение белков, жиров и углеводов соответственно является оптимальным для взрослых и детей старшего возраста?

- а) 1:1:3
- ☒ б) 1:1:4
- ☒ в) 1:4:1
- г) 4:1:1

10. Обзорный осмотр пострадавшего при оказании первой помощи выполняется с целью выявления признаков

- а) отравления
- б) ожога
- в) закрытой травмы
- ☒ г) наружного кровотечения

18

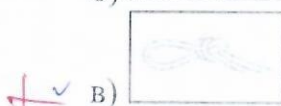
Определите два правильных ответа.

За каждый правильный ответ начисляется 2 балла. 0 баллов выставляется за неправильный ответ, а также если участником отмечены более двух ответов (в том числе правильные).

1. При движении организованных пеших колонн по проезжей части в тёмное время суток спереди и сзади колонны с левой стороны должны находиться сопровождающие с включёнными фонарями

- + ✓ а) спереди – белого цвета
б) сзади – оранжевого цвета
в) сзади – красного цвета
г) сзади – жёлтого цвета
д) спереди – зелёного цвета

2. Какие узлы относятся к вспомогательным?



3. Бросать спасательный круг в сторону тонущего рекомендуется так, чтобы он упал

- + ✓ а) справа от тонущего
+ ✓ б) слева от тонущего
в) сзади от тонущего
г) спереди от тонущего
д) на тонущего

4. Какие классы пиротехнических изделий бытового назначения можно применять только на улице?

- а) I
- + ✓ б) II
- в) III
- ✓ г) IV
- д) V






5. К основным принципам противодействия экстремистской деятельности относятся

- + ✓ а) гласность
- б) приоритет мер, направленных на ликвидацию последствий экстремистской деятельности
- + ✓ в) приоритет обеспечения безопасности Российской Федерации
- г) конфиденциальность
- д) приоритет обеспечения безопасности гражданина Российской Федерации

6. Определите существующие военные округа при военно-административном делении РФ в настоящее время.

- + ✓ а) Северный флот
- б) Северо-Кавказский военный округ
- в) Восточный военный округ
- ✓ г) Балтийский флот
- д) Сибирский военный округ

7. Определите по флагам страны – участницы НАТО.

- а) 
- б) 
- + ✓ в) 
- г) 
- д) 

8. Запас Вооружённых Сил Российской Федерации состоит из

- + ✓ а) мобилизационного людского резерва
- б) мобилизационного технического резерва
- в) мобилизационной складской базы
- + ✓ г) мобилизационного технического ресурса
- д) мобилизационного людского ресурса

9. Меры профилактики инфекционных заболеваний с
трансмиссивным механизмом передачи инфекции:

- а) регулярное мытьё рук
- ☒ б) использование медицинских трёхслойных одноразовых масок
- ☒ в) проведение дезинсекции
- г) проведение дезинфекции
- д) использование москитных сеток

10. После вакцинации у человека формируется иммунитет:

- а) пассивный
- б) активный
- ☒ в) приобретённый
- ☒ г) врождённый
- д) видовой

265.

Теоретические задания

Задание 1

1. Расположите предложенные фрагменты в верной последовательности, чтобы в итоге получилось определение.

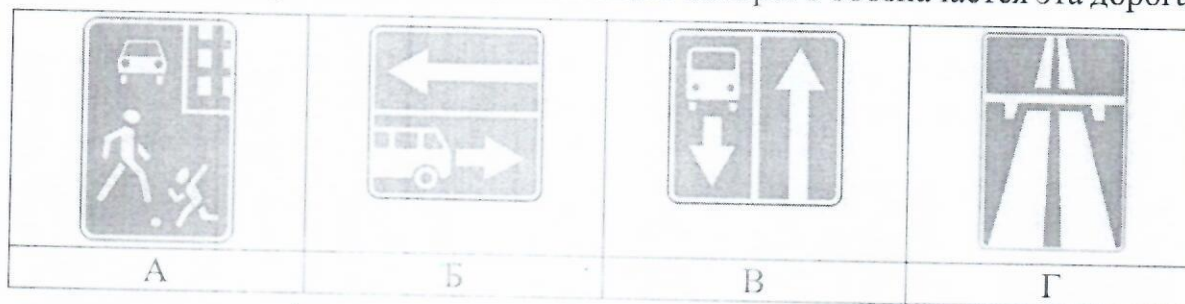
- 1) или трамвайными путями, пешеходными или велосипедными дорожками
- 2) движения проезжие части, отделённые друг от друга разделительной полосой (а при её отсутствии – дорожным ограждением),
- 3) без пересечений в одном уровне с другими дорогами, железнодорожными
- 4) дорога, обозначенная специальным
- 5) знаком и имеющая для каждого направления

Ответ: 45231

2. Запишите термин, определение которому Вы составили.

Ответ: _____.

3. Выберите изображение знака, с помощью которого обозначается эта дорога.




Ответ: 2

88.

Задание 2

Автомат Калашникова является индивидуальным оружием и предназначен для уничтожения живой силы и поражения огневых средств противника.

1. Определите, на каком изображении представлен АК-12.



Ответ: Б.


2. Определите характеристики АК-12. Подчеркните верный ответ.

- Применяемый боеприпас – 5,45x39; 7,62x39; 5,56x45
- Ёмкость магазина – 30 патронов; 45 патронов; 20 патронов
- Режимы ведения огня – с отсечкой по 2, одиночный, автоматический; с отсечкой по 3, автоматический; одиночный, автоматический
- Наличие штатного глушителя – есть; нет
- Возможность установки штык-ножа – есть; нет
- Возможность оперативной замены ствола – есть; нет

Задание 3

В Вооружённых Силах Российской Федерации устанавливаются составы военнослужазщих и воинские звания.

Укажите наименования воинских званий в соответствии со знаками различия на погонах лейтенант, старший лейтенант, майор, полковник, генерал-майор, генерал-лейтенант, генерал-полковник, генерал армии.



Задание 4

Для инфекционных заболеваний характерна цикличность течения.

1. Установите соответствие между наименованием периода инфекционного заболевания и его характеристикой.

| Период инфекционного заболевания | | Характеристика периода инфекционного заболевания |
|---|---|--|
| Начальный (продромальный) | → | Период проявления общих признаков заболевания. В этот период ещё нет чётко выраженных признаков конкретного заболевания |
| Угасания болезни (реконвалесценции) | → | Период, когда постепенно исчезают основные признаки болезни, начинается выздоровление организма, постепенно восстанавливаются нарушенные функции организма |
| Инкубационный | ↗ | Период максимального проявления наиболее существенных и специфических признаков конкретного заболевания |
| Основных проявлений болезни (разгара болезни) | ↘ | Промежуток времени от момента заражения до появления первых признаков болезни |

2. Какое из перечисленных заболеваний передаётся воздушно-капельным путём?

- а) гепатит А
- б) гепатит В
- в) корь
- г) малярия

Ответ: в.

Максимальная оценка за работу – 100 баллов.

100.

Мокова З.А. *[подпись]*

Умаров Мурат - *[подпись]*

Умаров Мурат - *[подпись]*

Езев А.С. - *[подпись]*

Кокоев Н.Р. - *[подпись]*