

ВСЕРОССИЙСКАЯ ОЛИМПИАДА ШКОЛЬНИКОВ
ПО ОБЖ 2021–2022 уч. г. ШКОЛЬНЫЙ ЭТАП
10–11 классы

Тестовые задания

Определите один правильный ответ.

За правильный ответ начисляется 2 балла. 0 баллов выставляется за неправильный ответ, а также если участником отмечено более одного ответа (в том числе правильный).





1. Водитель –

- ☒ а) лицо, управляющее каким-либо транспортным средством
б) лицо, управляющее только автомобилем
в) лицо, управляющее только автомобилем и автобусом
г) лицо, управляющее только мотоциклом, автомобилем и автобусом

2. В каком направлении нумеруются квартальные столбы, установленные на пересечении лесных просек для указания номеров стандартных лесных кварталов?

- а) с востока на юг
б) с юга на запад
в) с юга на север
г) с запада на восток

3. Определите знамя, которое является государственной реликвией России.


- а) 
б) 
в) 
г) 

4. Какое минимальное расстояние друг от друга необходимо соблюдать при переходе водоёма по льду группой?

- а) 5–6 м
б) 7–8 м
в) 3–4 м
г) 1–2 м


5. Обнаружена закладка из двух гранат. Установите минимальный радиус зоны эвакуации.

а) 250 м
✓ б) 50 м
в) 230 м
г) 200 м



6. На изображении представлен

✓ а) Су-57
б) Су-33
в) Су-27 СК
г) Су-35



7. К боевым ирритантам относят

а) хлорпикрин
б) дифосген
в) хлорциан
г) фосген

8. Какое воинское звание было у Ю.А. Гагарина во время первого в мире полёта в космос?

✓ а) старший лейтенант
б) лейтенант
в) майор
г) капитан

9. Какое соотношение белков, жиров и углеводов соответственно является оптимальным для взрослых и детей старшего возраста?

а) 1:1:3
б) 1:1:4
в) 1:4:1
г) 4:1:1

10. Обзорный осмотр пострадавшего при оказании первой помощи выполняется с целью выявления признаков

а) отравления
б) ожога
в) закрытой травмы
✓ г) наружного кровотечения






88.

Определите два правильных ответа.






За каждый правильный ответ начисляется 2 балла. 0 баллов выставляется за неправильный ответ, а также если участником отмечены более двух ответов (в том числе правильные).

1. При движении организованных пешеходных колонн по проезжей части в тёмное время суток спереди и сзади колонны с левой стороны должны находиться сопровождающие с включёнными фонарями
- а) спереди – белого цвета
 - б) сзади – оранжевого цвета
 - в) сзади – красного цвета
 - г) сзади – жёлтого цвета
 - д) спереди – зелёного цвета

2. Какие узлы относятся к вспомогательным?

- а) 
- б) 
- в) 
- г) 
- д) 

3. Бросать спасательный круг в сторону тонущего рекомендуется так, чтобы он упал
- ☒ а) справа от тонущего
 - ☐ б) слева от тонущего
 - ☐ в) сзади от тонущего
 - ☐ г) спереди от тонущего
 - ☐ д) на тонущего

4. **Какие классы пиротехнических изделий бытового назначения можно применять только на улице?**
а) I
б) II
в) III
г) IV
д) V
5. **К основным принципам противодействия экстремистской деятельности относятся**
а) гласность
б) приоритет мер, направленных на ликвидацию последствий экстремистской деятельности
в) приоритет обеспечения безопасности Российской Федерации
г) конфиденциальность
д) приоритет обеспечения безопасности гражданина Российской Федерации
6. **Определите существующие военные округа при военно-административном делении РФ в настоящее время.**
а) Северный флот
б) Северо-Кавказский военный округ
в) Восточный военный округ
г) Балтийский флот
д) Сибирский военный округ
7. **Определите по флагам страны – участницы НАТО.**
а) 
б) 
в) 
г) 
д) 
8. **Запас Вооружённых Сил Российской Федерации состоит из**
а) мобилизационного людского резерва
б) мобилизационного технического резерва
в) мобилизационной складской базы
г) мобилизационного технического ресурса
д) мобилизационного людского ресурса

9. Меры профилактики инфекционных заболеваний с трансмиссивным механизмом передачи инфекции:
- а) регулярное мытьё рук
 - б) использование медицинских трёхслойных одноразовых масок
 - в) проведение дезинсекции
 - г) проведение дезинфекции
 - д) использование москитных сеток
10. После вакцинации у человека формируется иммунитет:
- а) пассивный
 - б) активный
 - в) приобретённый
 - г) врождённый
 - д) видовой
- 48.

Теоретические задания

Задание 1

1. Расположите предложенные фрагменты в верной последовательности, чтобы в итоге получилось определение.

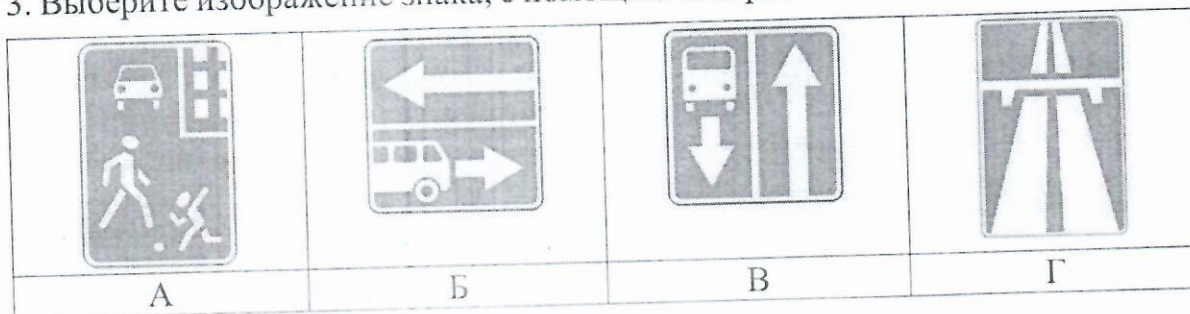
- 1) или трамвайными путями, пешеходными или велосипедными дорожками
- 2) движения проезжие части, отделённые друг от друга разделительной полосой (а при её отсутствии – дорожным ограждением),
- 3) без пересечений в одном уровне с другими дорогами, железнодорожными
- 4) дорогами, обозначенная специальным
- 5) знаком и имеющая для каждого направления

Ответ: _____

2. Запишите термин, определение которому Вы составили.

Ответ: _____.

3. Выберите изображение знака, с помощью которого обозначается эта дорога.




Ответ: _____.

Задание 2

Автомат Калашникова является индивидуальным оружием и предназначен для уничтожения живой силы и поражения огневых средств противника.

1. Определите, на каком изображении представлен АК-12.



Ответ: А —


2. Определите характеристики АК-12. Подчеркните верный ответ.

- Применяемый боеприпас — 5,45х39; 7,62х39; 5,56х45
- Ёмкость магазина — 30 патронов; 45 патронов; 20 патронов
- Режимы ведения огня — с отсечкой по 2, одиночный, автоматический; с отсечкой по 3, автоматический; одиночный, автоматический
- Наличие штатного глушителя — есть; нет
- Возможность установки штык-ножа — есть; нет
- Возможность оперативной замены ствола — есть; нет

Задание 3

В Вооружённых Силах Российской Федерации устанавливаются составы военнослужащих и воинские звания.

Укажите наименования воинских званий в соответствии со знаками различия на погонах лейтенант, старший лейтенант, майор, полковник, генерал-майор, генерал-лейтенант, генерал-полковник, генерал армии.



Задание 4

Для инфекционных заболеваний характерна цикличность течения.

1. Установите соответствие между наименованием периода инфекционного заболевания и его характеристикой.

Период инфекционного заболевания
Начальный (продромальный)
Угасания болезни (реконвалесценции)
Инкубационный
Основных проявлений болезни (разгара болезни)

Характеристика периода инфекционного заболевания
Период проявления общих признаков заболевания. В этот период ещё нет чётко выраженных признаков конкретного заболевания
Период, когда постепенно исчезают основные признаки болезни, начинается выздоровление организма, постепенно восстанавливаются нарушенные функции организма
Период максимального проявления наиболее существенных и специфических признаков конкретного заболевания
Промежуток времени от момента заражения до появления первых признаков болезни

2. Какое из перечисленных заболеваний передаётся воздушно-капельным путём?

- а) гепатит А
- б) гепатит В
- в) корь
- г) малярия

Ответ: в) _____.

Максимальная оценка за работу – 100 баллов.

Мокова З.А. *[подпись]*
Ускаров Мурат - *[подпись]*
Ускаров Марат - *[подпись]*
Езиев А.С. - *[подпись]*
Юсоев Р.Р. - *[подпись]*