

ВСЕРОССИЙСКАЯ ОЛИМПИАДА ШКОЛЬНИКОВ  
ПО ОБЖ 2021–2022 уч. г. ШКОЛЬНЫЙ ЭТАП  
7–8 классы

Тестовые задания

Определите один правильный ответ.

За правильный ответ начисляется 2 балла. 0 баллов выставляется за неправильный ответ, а также если участником отмечено более одного ответа (в том числе правильный).

1. Пассажир –

- ☒ а) лицо, кроме водителя, находящееся в транспортном средстве, входящее в него или выходящее из него  
б) только лицо, находящееся в транспортном средстве и выходящее из него  
в) только лицо, садящееся в транспортное средство и находящееся в нём  
г) только лицо, входящее в транспортное средство и выходящее из него

2. Какой вид костра рекомендуется использовать только для приготовления пищи?

- ☒ а) «шалаш»  
б) «пирамида»  
в) «колодец»  
г) «полинезийский»

3. В том случае, если космонавтов не сразу обнаружили после возвращения на Землю, до прибытия спасателей им помогает выжить

- ☒ а) SOS  
б) АМС  
в) ИСС  
г) НАЗ

4. На знамени МЧС России вышиты слова

- а) «Спасать, тушить, предупреждать»  
б) «Предотвращение, спасение, помощь»  
☒ в) «Спасение во имя жизни – наше призвание»  
г) «Учимся побеждать, предупреждать и спасать»

5. При выходе из зоны возможного химического заражения рекомендуется двигаться

- а) перпендикулярно направлению ветра  
б) параллельно направлению ветра  
☒ в) по ветру  
г) по диагонали относительно направления ветра

6. Единым номером вызова экстренных оперативных служб является

а) 1-1-2

☒ б) 1-0-3

в) 1-1-1

г) 1-0-4

7. Обнаружен бесхозный предмет. Установите минимальный радиус зоны эвакуации.

а) 250 м

☒ б) 230 м

в) 460 м

г) 200 м



8. Канцерогенные вещества, содержащиеся в табачном дыме, приводят к развитию

а) заболеваний сердца

☒ б) злокачественных новообразований

в) заболеваний суставов

г) сосудистой патологии

9. При частичном нарушении проходимости дыхательных путей, когда человек подавился, но может разговаривать, первую помощь рекомендуется начать с

☒ а) нанесения 5 ударов между лопатками

б) предложения покашлять

в) выполнения приёма Геймлиха

г) предложения выпить тёплой воды

10. Велосипедист упал, повредил ногу в нижней трети голени. Какое минимальное количество суставов необходимо иммобилизовать, если выявлены признаки перелома?

а) один

☒ б) два

в) три

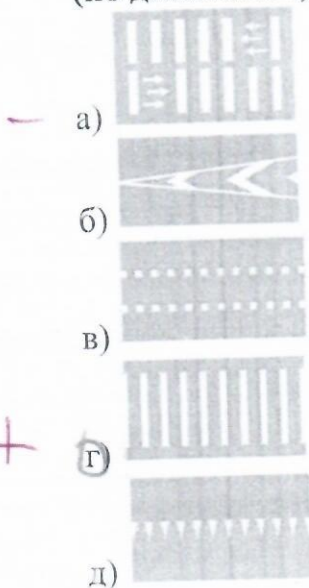
г) четыре

68.


**Определите два правильных ответа.**

За каждый правильный ответ начисляется 2 балла. 0 баллов выставляется за неправильный ответ, а также если участником отмечены более двух ответов (в том числе правильные).

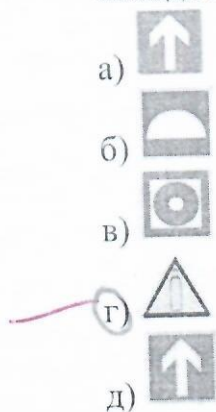
1. При наличии какой разметки допускается переходить проезжую часть между противоположными углами перекрёстка (по диагонали)?



2. В какие деревья реже всего бьёт молния?



3. Выберите знаки, которые в совокупности означают «Место размещения нескольких средств противопожарной защиты находится наверху».





4. Находясь на эскалаторе, для обеспечения личной безопасности НЕ рекомендуется
- ☒ а) прислоняться к неподвижным частям
  - б) проходить с левой стороны
  - в) держаться за поручень эскалатора
  - г) наступать на жёлтую линию на ступенях эскалатора
  - д) стоять справа лицом по направлению его движения
5. Прочным считается лёд с
- а) зеленоватым оттенком
  - б) молочным оттенком
  - в) синеватым оттенком
  - ☒ г) серым оттенком
  - д) фиолетовым оттенком
6. В толпе рекомендуется руки держать
- а) перед грудью
  - б) перед лицом
  - в) выпрямленными в локтях
  - г) согнутыми в локтях
  - ☒ д) в карманах
7. В Главное управление по противодействию экстремизму МВД России Вы можете подать электронное заявление о
- ☒ а) кибербуллинге
  - б) скулшутинге
  - в) суициде
  - г) клевете
  - д) незаконном обороте оружия
8. Какое влияние оказывает никотин на организм человека?
- а) вызывает сужение сосудов
  - б) улучшает кровоснабжение внутренних органов
  - в) вызывает развитие злокачественных новообразований
  - ☒ г) в низких дозах возбуждает, в высоких – угнетает ЦНС
  - д) не вызывает привыкания
9. К закрытым механическим травмам относят
- а) ушибы
  - б) растяжения
  - ☒ в) отравления
  - г) ожоги
  - д) отморожения

10. При каких травмах пострадавшему придают оптимальное положение тела, изображённое на рисунке?

- а) переломе рёбер
- б) травме голени
- в) травме позвоночника
- г) травме живота
- д) травме таза

+

д



105.

### Теоретические задания

#### Задание 1

Расположите предложенные фрагменты в верной последовательности, чтобы в итоге получилось определение.

- 1) удалённые от центра перекрёстка начала закруглений проезжих частей
- 2) разветвления дорог на одном уровне, ограниченное воображаемыми линиями,
- 3) место пересечения, примыкания или
- 4) соединяющими соответственно противоположные, наиболее

Ответ: \_\_\_\_\_

\_\_\_\_\_

\_\_\_\_\_

\_\_\_\_\_

Запишите термин, определение которому Вы составили.

Ответ: \_\_\_\_\_.

### Задание 2

Аварийно химически опасное вещество (АХОВ) – опасное химическое вещество, применяемое в промышленности, сельском хозяйстве, при аварийном выбросе (разливе) которого может произойти загрязнение окружающей среды, поражение людей и живой природы.

1. Определите название АХОВ по его описанию: газ жёлто-зелёного цвета с резким запахом.

Ответ: \_\_\_\_\_.

2. Определите его свойства:

- а) Легче воздуха, поэтому скапливается на верхних этажах зданий.
- б) Тяжелее воздуха, поэтому скапливается в низинных участках местности, проникает в подвальные помещения и нижние этажи зданий.
- в) Немного легче воздуха, плохо растворим в воде.

← Ответ: а \_\_\_\_\_.

3. Определите признаки отравления:

- а) Головная боль, головокружение, нарушение координации движений, покраснение кожи, нарушения психической деятельности (эйфория, утрата самоконтроля и т. п.). Позже развиваются судороги, утрачивается сознание, и, если не принять экстренные меры, человек может погибнуть вследствие остановки сердца.
- б) Металлический привкус во рту, слабость, головокружение, беспокойство, расширение зрачков, замедление пульса, судороги.
- в) Резкая боль в груди, сухой кашель, рвота, резь в глазах и слезотечение.

← Ответ: б \_\_\_\_\_.



### Задание 3

Средство индивидуальной защиты – средство индивидуального пользования для предотвращения или уменьшения воздействия на человека вредных и (или) опасных факторов, а также для защиты от загрязнения.

Распределите средства индивидуальной защиты по группам: средства индивидуальной защиты органов дыхания (СИЗОД); средства индивидуальной защиты кожи (СИЗК); медицинские средства индивидуальной защиты (МСИЗ).

- камера защитная детская;
- щитки защитные лицевые;
- противогаз гражданский;
- защитные очки;
- фильтрующий самоспасатель;
- перчатки;
- защитная паста гидрофобного характера;
- скафандр;
- фармакологические противоядия;
- наколенники.

Ответ:

Группы индивидуальной защиты	Средства индивидуальной защиты
СИЗОД	
СИЗК	
МСИЗ	

#### Задание 4

Подробный осмотр пострадавшего при оказании первой помощи выполняется в определённой последовательности.

Расставьте наименования анатомических областей тела человека в правильной последовательности выполнения их осмотра.

Наименование анатомических областей тела человека: конечности, грудь, спина, живот и таз, голова, шея.

Ответ:

№	Анатомическая область тела
1.	
2.	
3.	
4.	
5.	
6.	

Максимальная оценка за работу – 100 баллов.

Мокова З.А. *Мокова*  
Унакаров Мурат - *Унакаров*  
Унакаров Марат - *Унакаров*  
Езиев А.С. - *Езиев*  
Жокоев Р.Р. - *Жокоев*