

6002

Школьная олимпиада по технологии (мальчики)

2021-2022 уч.год.

6 класс За каждый правильный ответ -2 балла.

- 0.1. Как называется операция разрезания древесины пилой?
☐ А) разделкой ☐ Б) раскромом(в) пилением
2. 2. Что получают из бревен при продольной распиловке?
☐ А) пиломатериалы ☐ Б) ДВП ☐ В) фанеру
2. 3. Какие вы знаете лиственные породы деревьев?
☐ А) сосна, дуб, ель ☐ Б) ель, сосна, осин ☒ В) береза, осина, рябина
0. 4. Чем выполняют выравнивание и гибку листового металла?
☐ А) дрелью/Б/киянкой ☒ В) лобзиком
2. 5. Верстак должен иметь высоту, соответствующую
☐ А) росту учителя ☒ Б) росту ученика ☐ В) не имеет значения
2. 6. Что называется выжиганием?
☐ А) обжигание изделий на открытом огне ☐ Б) окраска изделий
☒ В) нанесение на изделие различных рисунков сильно нагретой проволокой
2. 7. Какие пилы применяют для пиления фанеры?
☒ А) мелкозубые ☐ Б) среднезубые ☐ В) крупнозубые
2. 8. Чем выполняют паяние?
☐ А) электрической дрелью ☐ Б) клеем ☒ В) электрическим паяльником
2. 9. Какого материала расходуется больше на изготовление деталей в слесарной мастерской?
☒ А) металла ☐ Б) древесины ☐ В) пластмассы
2. 10. Назовите примеры проводников электрического тока? ☐ А) железо, дерево, резина
☒ Б) (железо, вода, алюминий ☐ В) резина, железо, алюминий
2. 11. В каких единицах измерения проставляют размеры на чертежах? ^
☒ А) в миллиметрах ☐ Б) в сантиметрах ☐ В) в метрах
2. 12. Для чего применяют выключатели электрического тока?
☐ А) Для выключения потребителей электроэнергии в цепь ☐ Б) Для включения потребителей электроэнергии в цепь
☒ В) Для включения и выключения потребителей электроэнергии в цепь
2. 13. Каким инструментом размечают окружность?
☐ А) рейсмус ☐ Б) угольник ☒ В) циркуль
2. 14. Инструмент для измерения длины бревен?
☐ А) штангенциркуль ☐ Б) мерная скоба ☒ В) рулетка
2. 15. Что такое ДСП?
☐ А) дерево спрессованное ☒ Б) древесно - стружечная плита ☐ В) деревянные строганные приспособления
2. 16. При соединении деталей шурупами используются
☐ А) молоток ☒ Б) отвертка ☐ В) сверло
2. 17. Удаление гвоздей возможно с помощью

385

отвертки Б) дрели В) плотницкого молотка

18. Чем можно сделать круглое отверстие?

А) сверлом, Б) стамеской В) рубанком

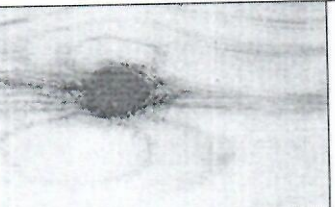


2 19. Заготовкой древесины занимаются

А) лесничества Б) деревообрабатывающая промышленность В) лесхозы

2 20. Бревна на лесопильной раме распиливают

А) рифлевые валцы Б) полосовые пилы В) ленточные пилы

2 21. Соотнесите название пороков древесины с рисунками:

А		1	Синева
Б		2	Червоточины
В		3	Трещина
Г		4	Гнилой сучок

А	Б	В	Г
4	3	1	2

Председатель жюри

Члены жюри

Мокова Э.А.

Езиев А.С.

Тхостов А.Б.

Унахафов Марат М.

Гуляжникова А.Х.

Тохова Р.С.